

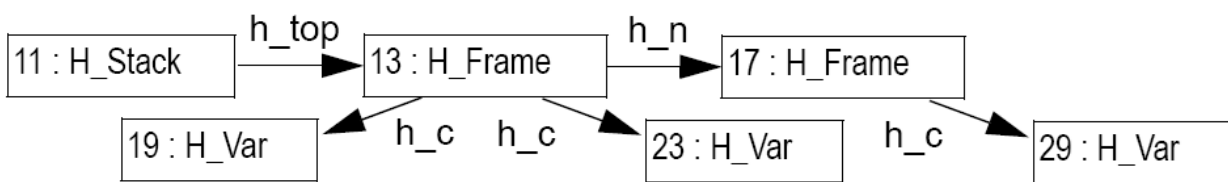


**Vorlesung Graphentechnik, SS 2011**

**Hausaufgabe 3  
Abgabe bis: 27.05.2011**

**Aufgabe 1:**

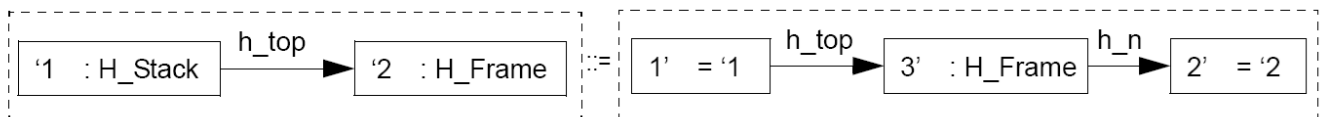
Gegeben sei folgender Graph:



sowie die auf diesen Graph anzuwendenden Regeln:

Regel 1:

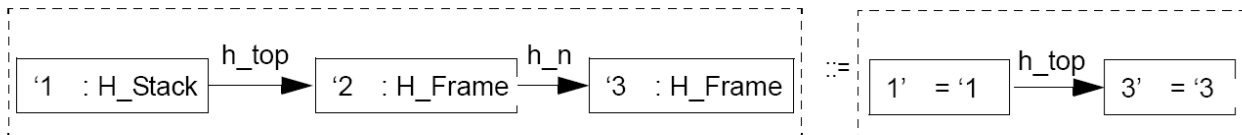
production H\_PushFrame =



end;

Regel 2:

production H\_PopFrame =



end;

Beschreibe formal obigen Graphen als gakk-Graphen, sowie die Regeln, die Anwendung der Regeln und den jeweiligen Intermediate- und Ergebnisgraphen.